

§10 累次積分 演習問題2 解答*

📎 問題の難易度の目安【基礎】☆☆☆ 【標準】★★☆ 【発展】★★★

1 (☆☆☆)(累次積分①)

次の重積分の値を求めよ.

$$(1) \iint_D (x+y) dx dy, \quad D := \{(x, y) : 0 \leq x \leq 1, 0 \leq y \leq 1\}$$

$$(2) \iint_D x^2 y dx dy, \quad D := \{(x, y) : 1 \leq x \leq 2, 3 \leq y \leq 4\}$$

$$(3) \iint_D e^x y dx dy, \quad D := \{(x, y) : 1 \leq x \leq 2, 0 \leq y \leq 2\}$$

$$(4) \iint_D x e^y dx dy, \quad D := \{(x, y) : 0 \leq x \leq 1, 0 \leq y \leq x^2\}$$

$$(5) \iint_D \sin y dx dy, \quad D := \{(x, y) : 0 \leq x \leq \pi, \frac{\pi}{2} - x \leq y \leq \pi + x\}$$

$$(6) \iint_D \sin(x+y) dx dy, \quad D := \{(x, y) : x+y \leq \frac{\pi}{2}, x \geq 0, y \geq 0\}$$

$$(7) \iint_D xy dx dy, \quad D := \{(x, y) : x^2 \leq 8y, x \geq y^2\}$$

解 (1)
$$\begin{aligned} \iint_D (x+y) dx dy &= \int_0^1 \left(\int_0^1 (x+y) dx \right) dy = \int_0^1 \left[\frac{x^2}{2} + yx \right]_{x=0}^1 dy \\ &= \int_0^1 \left(\frac{1}{2} + y \right) dy = \left[\frac{y}{2} + \frac{y^2}{2} \right]_{y=0}^1 = 1. \end{aligned}$$

(2)
$$\begin{aligned} \iint_D x^2 y dx dy &= \left(\int_1^2 x^2 dx \right) \left(\int_3^4 y dy \right) \\ &= \left[\frac{x^3}{3} \right]_{x=1}^2 \left[\frac{y^2}{2} \right]_{y=3}^4 = \frac{49}{6}. \end{aligned}$$

(3)
$$\begin{aligned} \iint_D e^x y dx dy &= \left(\int_1^2 e^x dx \right) \left(\int_0^2 y dy \right) \\ &= [e^x]_{x=1}^2 \left[\frac{y^2}{2} \right]_{y=0}^2 = 2(e^2 - e). \end{aligned}$$

(4)
$$\iint_D x e^y dx dy = \int_0^1 \left(\int_0^{x^2} x e^y dy \right) dx = \int_0^1 x [e^y]_{y=0}^{x^2} dx$$

*2020.12.16 revised / ver.1.1

$$= \int_0^1 x(e^{x^2} - 1) dx = \left[\frac{1}{2}(e^{x^2} - x^2) \right]_{x=0}^1 = \frac{e - 2}{2}.$$

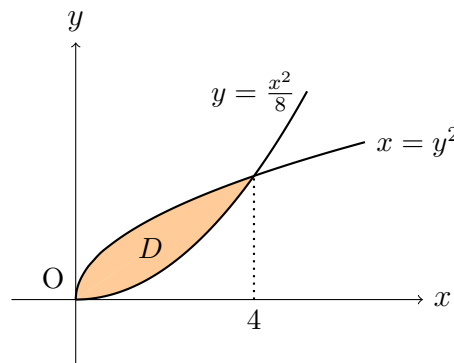
$$\begin{aligned} (5) \quad \iint_D \sin y \, dx dy &= \int_0^\pi \left(\int_{\frac{\pi}{2}-x}^{\pi+x} \sin y \, dy \right) dx = \int_0^\pi [-\cos y]_{y=\frac{\pi}{2}-x}^{\pi+x} dx \\ &= \int_0^\pi (\cos x + \sin x) dx \\ &= [\sin x - \cos x]_0^\pi = 2. \end{aligned}$$

(6) $D = \{(x, y) : 0 \leq x \leq \frac{\pi}{2}, 0 \leq y \leq \frac{\pi}{2} - x\}$ と書けるので,

$$\begin{aligned} \iint_D \sin(x+y) \, dx dy &= \int_0^{\frac{\pi}{2}} \left(\int_0^{\frac{\pi}{2}-x} \sin(x+y) \, dy \right) dx \\ &= \int_0^{\frac{\pi}{2}} [-\cos(x+y)]_{y=0}^{\frac{\pi}{2}-x} dx \\ &= \int_0^{\frac{\pi}{2}} \cos x \, dx = 1. \end{aligned}$$

(7) D の定義式中の不等式 $x^2 \leq 8y$, $x \geq y^2$ を同時にみたす (x, y) が存在するための条件は, $0 \leq \left(\frac{x^2}{8}\right)^2 \leq x \iff 0 \leq x \leq 4$. ゆえに, 領域 D は $D = \{(x, y) : 0 \leq x \leq 4, \frac{x^2}{8} \leq y \leq \sqrt{x}\}$ と縦線領域として表されるから,

$$\begin{aligned} \iint_D xy \, dx dy &= \int_0^4 \left(\int_{\frac{x^2}{8}}^{\sqrt{x}} xy \, dx \right) dy = \int_0^4 \left[\frac{x}{2} y^2 \right]_{y=\frac{x^2}{8}}^{\sqrt{x}} dx \\ &= \int_0^4 \left(\frac{x^2}{2} - \frac{x^5}{128} \right) dx = \left[\frac{x^3}{6} - \frac{x^6}{768} \right]_0^4 = \frac{16}{3}. \end{aligned}$$



【別解】 D の定義式中の不等式 $x^2 \leq 8y$, $x \geq y^2$ を同時にみたす (x, y) が存在するための条件は, $0 \leq y^4 \leq 8y \iff 0 \leq y \leq 2$ である. したがって, 領域 D を $D = \{(x, y) : 0 \leq y \leq 2, y^2 \leq x \leq \sqrt{8y}\}$ と横線領域とみなして

Check

$$\iint_D xy \, dx dy = \int_0^2 \left(\int_{y^2}^{\sqrt{8y}} xy \, dx \right) dy = \int_0^2 \left[\frac{x^2 y}{2} \right]_{x=y^2}^{\sqrt{8y}} dy = \dots = \frac{16}{3}$$

のように積分してもよい.

2 (★★☆)(累次積分②)

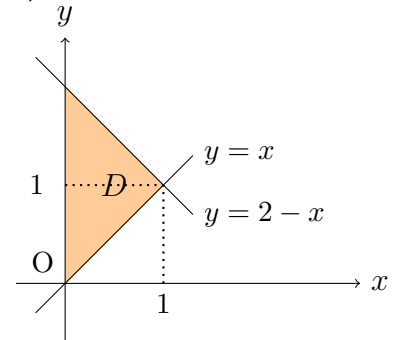
次の重積分の値を2通りに計算せよ.

(1) $\iint_D xy \, dx dy$, D は直線 $x = 0$, $y = x$ および $x + y = 2$ で囲まれた領域.

(2) $\iint_D x^3 \, dx dy$, D は直線 $y = x$ と放物線 $y = x^2$ で囲まれた領域.

解 (1) $D = \{(x, y) : 0 \leq x \leq 1, x \leq y \leq 2 - x\}$ と表されるから,

$$\begin{aligned} \iint_D xy \, dx dy &= \int_0^1 \left(\int_x^{2-x} xy \, dy \right) dx = \int_0^1 \left[\frac{1}{2} xy^2 \right]_{y=x}^{2-x} dx \\ &= \int_0^1 (2x - x^2) dx = \left[x^2 - \frac{2}{3} x^3 \right]_0^1 = \frac{1}{3}. \end{aligned}$$

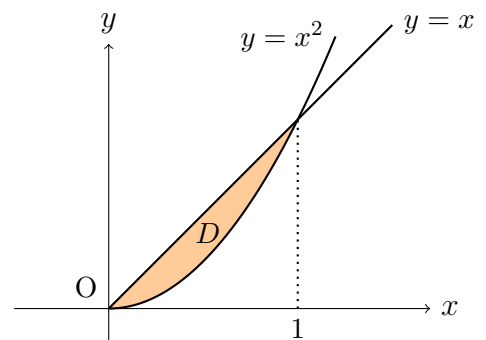


一方, $D = \{(x, y) : 0 \leq y \leq 1, 0 \leq x \leq y\} \cup \{(x, y) : 1 \leq y \leq 2, 0 \leq x \leq 2 - y\}$ と横線領域の合併とみなすと,

$$\begin{aligned} \iint_D xy \, dx dy &= \int_0^1 \left(\int_0^y xy \, dx \right) dy + \int_1^2 \left(\int_0^{2-y} xy \, dx \right) dy \\ &= \int_0^1 \left[\frac{1}{2} x^2 y \right]_{x=0}^y dy + \int_1^2 \left[\frac{1}{2} x^2 y \right]_{x=0}^{2-y} dy \\ &= \int_0^1 \frac{y^3}{2} dy + \int_1^2 \frac{1}{2} (2-y)^2 y dy \\ &= \left[\frac{y^4}{8} \right]_0^1 + \left[\frac{(y-2)^4}{8} + \frac{(y-2)^3}{3} \right]_1^2 = \frac{1}{3}. \end{aligned}$$

(2) $D = \{(x, y) : 0 \leq x \leq 1, x^2 \leq y \leq x\}$ と表されるから,

$$\begin{aligned} \iint_D x^3 \, dx dy &= \int_0^1 \left(\int_{x^2}^x x^3 \, dy \right) dx = \int_0^1 [x^3 y]_{y=x^2}^x dx \\ &= \int_0^1 (x^4 - x^5) dx = \left[\frac{x^5}{5} - \frac{x^6}{6} \right]_0^1 = \frac{1}{30}. \end{aligned}$$



一方, $D = \{(x, y) : 0 \leq y \leq 1, y \leq x \leq \sqrt{y}\}$ と横線領域とみなすと,

$$\begin{aligned} \iint_D x^3 \, dx dy &= \int_0^1 \left(\int_y^{\sqrt{y}} x^3 \, dx \right) dy = \int_0^1 \left[\frac{x^4}{4} \right]_{x=y}^{\sqrt{y}} dy \\ &= \int_0^1 \frac{1}{4} (y^2 - y^4) dy = \left[\frac{1}{4} \left(\frac{y^3}{3} - \frac{y^5}{5} \right) \right]_0^1 = \frac{1}{30}. \end{aligned}$$

3 (★★☆)(累次積分③)

次の重積分の値を求めよ.

$$(1) \iint_D \sqrt{4x^2 - y^2} dx dy, \quad D := \{(x, y) : 0 \leq x \leq 1, 0 \leq y \leq x\}$$

$$(2) \iint_D \frac{2y}{x^2 + y^2} dx dy, \quad D := \{(x, y) : 1 \leq y \leq \sqrt{3}, y \leq x \leq y^2\}$$

解

$$(1) \iint_D \sqrt{4x^2 - y^2} dx dy = \int_0^1 \left(\int_0^x \sqrt{4x^2 - y^2} dy \right) dx \quad \dots \textcircled{1}.$$

括弧内の y に関する積分で $y = 2x \sin \theta$ と変数変換する. このとき, $y : 0 \rightarrow x \longleftrightarrow \theta : 0 \rightarrow \frac{\pi}{6}$ であり, $dy = 2x \cos \theta d\theta$ であるから,

$$\begin{aligned} \int_0^x \sqrt{4x^2 - y^2} dy &= \int_0^{\frac{\pi}{6}} 2x \sqrt{1 - \sin^2 \theta} \cdot 2x \cos \theta d\theta \\ &= \int_0^{\frac{\pi}{6}} 4x^2 \cos^2 \theta d\theta \\ &= 4x^2 \int_0^{\frac{\pi}{6}} \frac{1 + \cos 2\theta}{2} d\theta \\ &= 4x^2 \left[\frac{\theta}{2} + \frac{1}{4} \sin 2\theta \right]_0^{\frac{\pi}{6}} = 4x^2 \left(\frac{\pi}{12} + \frac{\sqrt{3}}{8} \right). \end{aligned}$$

したがって, これを①へ代入して,

$$\begin{aligned} \iint_D \sqrt{4x^2 - y^2} dx dy &= \int_0^1 4x^2 \left(\frac{\pi}{12} + \frac{\sqrt{3}}{8} \right) dx \\ &= \left(\frac{\pi}{12} + \frac{\sqrt{3}}{8} \right) \left[\frac{4}{3} x^3 \right]_0^1 = \frac{\pi}{9} + \frac{\sqrt{3}}{6}. \end{aligned}$$

$$(2) \iint_D \frac{2y}{x^2 + y^2} dx dy = \int_1^{\sqrt{3}} \left(\int_y^{y^2} \frac{2y}{x^2 + y^2} dx \right) dy \quad \dots \textcircled{1}.$$

括弧内の x に関する積分は,

$$\begin{aligned} \int_y^{y^2} \frac{2y}{x^2 + y^2} dx &= \int_y^{y^2} 2 \left(\text{Arctan} \frac{x}{y} \right)' dx \\ &= \left[2 \text{Arctan} \frac{x}{y} \right]_{x=y}^{y^2} = 2 \left(\text{Arctan} y - \frac{\pi}{4} \right) \end{aligned}$$

となる. したがって, ①へ代入して部分積分すると,

$$\begin{aligned} \iint_D \frac{2y}{x^2 + y^2} dx dy &= \int_1^{\sqrt{3}} 2 \left(\text{Arctan} y - \frac{\pi}{4} \right) dy \\ &= 2 \int_1^{\sqrt{3}} y' \text{Arctan} y dy - \frac{\pi}{2} (\sqrt{3} - 1) \end{aligned}$$

$$\begin{aligned}
 &= [2y \operatorname{Arctan} y]_{y=1}^{\sqrt{3}} - \int_1^{\sqrt{3}} \frac{2y}{y^2+1} dy - \frac{\pi}{2}(\sqrt{3}-1) \\
 &= \frac{2\sqrt{3}}{3}\pi - \frac{\pi}{2} - [\log(y^2+1)]_{y=1}^{\sqrt{3}} - \frac{\pi}{2}(\sqrt{3}-1) \\
 &= \frac{\sqrt{3}}{6}\pi - \log 2.
 \end{aligned}$$

問題を解くにあたっての基礎事項の確認

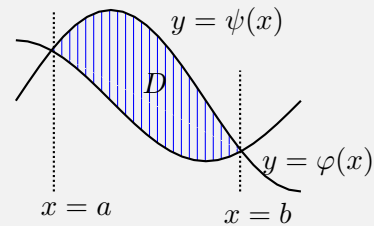
(1) $\varphi(x), \psi(x) : \varphi(x) \leq \psi(x)$ をみたす $x \in [a, b]$ 上の連続関数とする。領域

$$D := \{(x, y) : a \leq x \leq b, \varphi(x) \leq y \leq \psi(x)\}$$

を**縦線領域**という。このとき連続関数 $f(x, y)$ に対して

$$\iint_D f(x, y) dx dy = \int_a^b \left(\int_{\varphi(x)}^{\psi(x)} f(x, y) dy \right) dx$$

が成り立つ。



(2) $p(y), q(y) : p(y) \leq q(y)$ をみたす $x \in [c, d]$ 上の連続関数とする。領域

$$E := \{(x, y) : c \leq y \leq d, p(y) \leq x \leq q(y)\}$$

を**横線領域**という。このとき連続関数 $f(x, y)$ に対して

$$\iint_E f(x, y) dx dy = \int_c^d \left(\int_{p(y)}^{q(y)} f(x, y) dx \right) dy$$

が成り立つ。

